

Pracovní list – PTÁCI 2

(kukačky, papoušci, dravci, sovy)

Vysvětli pojem **hnízdni parazitismus**. U jakého druhu se vyskytuje?

.....
.....
.....



Zakroužkuj charakteristické znaky papoušků:

mají hrdelní vak

pestře zbarvení

nekrmivá mláďata

vysoká inteligence

zobák tvrdý pouze na špičce

napodobují různé zvuky

plovací blány

potravu si podají nohou

hnízdni parazitismus

krmivá mláďata

hákovitý zobák

svalnatý jazyk

Označ křížkem pravdivá tvrzení o kukačkách.

Živí se chlupatými housenkami.

Kukačka klade několik vajec.

Kukačka nestaví hnízda.

Kukačky sedí na vejcích.

Mláďata jsou nekrmivá.


Kukají pouze samci.

Pojmenuj následující papoušky.

1.




2.



3.



4.



5.



1)

2)

3)

4)

5)

K uvedeným charakteristikám napiš, zda jsou typické pro sovy – S, pro dravce – D, nebo pro obě skupiny – D, S.

vratiprst

tichý let

potravu loví jen ve dne

velká pohyblivost hlavy


krmiví

hnízdno vysoko ve větvích

vývržky

menší množství mláďat

Která noha patří výru velkému – V a která orlu skalnímu – O? Vysvětli, podle čeho je možné to poznat.



.....

.....

.....

.....

.....

Podle čeho lze rozpoznat přítomnost dravců a sov v lese?

.....

.....

Urči naše sovy a dravce podle jejich siluety – využij pojmy z nabídky.

A - jestřáb lesní, B - orl skalní, C - káně lesní, D - poštolka obecná, E - výr velký



Sovy a dravci jsou na konci potravního řetězce, vysvětli, co to znamená. Uveď příklad potravního řetězce zakončeného sovou či dravcem.

.....

.....

Rozdělte jednotlivé znaky sov a dravců – **znaky sov vybarvi červeně**, **znaky dravců modře**.

loví za soumraku a v noci

vratiprst

oči směřují dopředu – tzv. závoj



loví ve dne

značná pohyblivost hlavy – až 270°

oči po stranách hlavy



3 prsty dopředu, 1 dozadu

otáčivost hlavy srovnatelná s ostatními ptáky

Rozlušti přesmyčky dravců a sov.

BŘESTÁJ
 HURACEJK
 KALOPTOŠ
 LÍNĚNÁSEK

SOUKAL
 ŠTUPÍK
 VÝVERKÝL

